

متعة الرياضيات في الخرائط الذهنية و المفاهيمية

مناهج المرحلة الثانوية

المؤلفة
هند العديني

الأستاذة / هند علي العديني

نفيدكم علما بأنه قد تم تسجيل عملكم الموسوم بـ:

متعة الرياضيات في الخرائط الذهنية والمفاهيمية مناهج المرحلة الثانوية

ها، ورقم ردمك 1-5787-03-603-978

1442/03/20

وتاريخ

1442/2027

تحت رقم إيداع

بِسْمِ اللَّهِ الرَّحْمَنِ الرَّحِيمِ

إهداء للميدان التعليمي

أحمد الله عز وجل على منه و عونه أن سهل لي جمع أعمال من الخرائط و الملخصات لمناهج مادة الرياضيات المرحلة الثانوية و التي سهلت عليا توصيل المعلومة لطالباتي و كان سببا في تعميق الفهم لطالباتي خلال سنوات عديدة في هذا الكتيب الذي اسأل الله أن يجعله علما ينتفع به و صدقة جارية عني و عن والدي و اتمنى أن أكون قد وفقت لتقديم عمل مفيد و نافع للميدان التعليمي ينتفع منه الجميع بإذن الله مع الحفاظ على الأمانة العلمية و حفظ الحقوق .

معلمة الرياضيات

هند علي العديني

إعداد المعلمة : هند العديني

المقدمة


خرائط المفاهيم تعرف خرائط المفاهيم بأنها تخطيط رسوم تمتلك بُعدين، وتوضع فيها مفاهيم المواد والأبحاث الدراسية بشكل هرمي؛ بحيث يوضع في قمة الهرم مواد المفاهيم الأساسية ذات الشمولية العالية والخصوصية القليلة، وتوضع في قاعدة الهرم مواد المفاهيم ذات الشمولية القليلة والخصوصية العالية، وترتبط هذه المفاهيم ببعضها البعض من خلال علاقة مفهومة. تعتبر خرائط المفاهيم وسيلة لتمثيل العلاقات بين الأفكار، والصور، والكلمات المختلفة، وتستخدم في مجالات التخطيط، والتدريس، والتلخيص، والتقييم لمواد دراسية، ومعرفة قدرة الطلبة على فهم واستيعاب تلك المفاهيم الموجودة فيها، بالإضافة إلى اختبار الطالب بقدرة على تذكر المفاهيم السابقة.

أهمية خرائط المفاهيم للمتعلم ربط المفاهيم بين بعضها البعض، وتكوين علاقة بينهما. يستطيع تحديد المفاهيم المتشابهة مع بعضها، وفصل المختلف منها. القدرة على التمييز بين المفاهيم ذات المعنى القريب أو المتشابهة. تحديد المعلومات المهمة والأساسية، والمعلومات المتفرعة والجانبية. تسهل دراسة المادة، وفهمها جيداً، وإزالة اللبس فيها، وهذا يساعد على تفادي المشكلات التي يمكن أن تقع أثناء الدراسة، والمحافظة على ارتفاع التحصيل الدراسي.

أهمية خرائط المفاهيم للمعلم صناعة ملخصات لأجزاء مختلفة من المادة الدراسية التي تسهل عملية التدريس تزيد من القدرة المعلم على الانتباه أثناء إعداد أفكارهم. تسهل تقييم الطلبة من خلال هذه الخرائط، وهذا يساعد على توجيه الطلبة إلى أخطائهم لتفاديها في المستقبل. تطوير العلاقة الثنائية بين المعلم والطلبة، وهذا يساهم في تطوير أدائهم.



إعداد المعلمة : هند العديني

A hand holding a piece of white chalk points towards the text on a black chalkboard. The text is written in white Arabic calligraphy. The chalkboard is framed in wood and set against a light blue background.

خرائط مفاهيم
مقرر رياضيات ٥

إعداد المعلمة : هند العديني



إعداد المعلمة : هند العديني

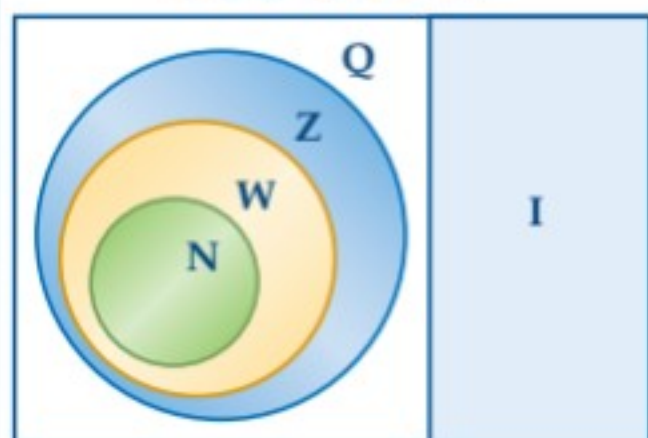
وصف المجموعات الجزئية من مجموعة الأعداد الحقيقية

إعداد المعلمة
هند العديني

الخاصية المميزة

إذ تستعملُ الصفة المميزة للمجموعة خصائص الأعداد ضمن المجموعة لتعريفها. ويقرأ الرمز " | " حيث، والرمز " \in " ينتمي إلى أو عنصر في .

الأعداد الحقيقية R



$$\{x \mid -3 \leq x \leq 16, x \in \mathbb{Z}\}$$

الأعداد x حيث...

x لها هذه الخصائص...

x ينتمي إلى مجموعة الأعداد المعطاة.

فترات غير محدودة		فترات محدودة	
رمز الفترة	المتباينة	رمز الفترة	المتباينة
$[a, \infty)$	$x \geq a$	$[a, b]$	$a \leq x \leq b$
$(-\infty, a]$	$x \leq a$	(a, b)	$a < x < b$
(a, ∞)	$x > a$	$[a, b)$	$a \leq x < b$
$(-\infty, a)$	$x < a$	$(a, b]$	$a < x \leq b$
$(-\infty, \infty)$	$-\infty < x < \infty$		

الفترات
الحقيقية

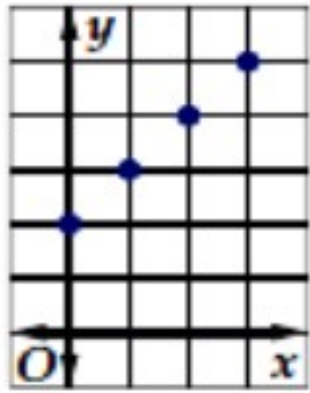
الرمزان \cup ، \cap :

يُقرأ الرمز " \cup " (اتحاد)، ويعني: جميع العناصر المنتمية إلى كلا المجموعتين.

يُقرأ الرمز " \cap " (تقاطع)، ويعني: جميع العناصر المشتركة بين المجموعتين.

لفظيًا: جملة تصف كيفية ارتباط عناصر المجال بعناصر المدى.
مثلاً: يرتبط كل عنصر من المجال بالعنصر الذي يزيد عليه قيمة بمقدار 2 من المدى.

بيانيًا: تحديد نقاط في المستوى الإحداثي تمثل الأزواج المرتبة.



تمثيل العلاقة

إعداد المعلمة
هند العديني

عدديًا: جدول من القيم أو مجموعة من الأزواج المرتبة تربط عنصرًا من المجال (قيمة x) بعنصر من المدى (قيمة y).
مثلاً: $\{(0, 2), (1, 3), (2, 4), (3, 5)\}$

جبريًا: معادلة جبرية تربط بين الإحداثيين x, y لكل زوج من الأزواج المرتبة. مثلاً: $y = x + 2$

اختبار الدالة

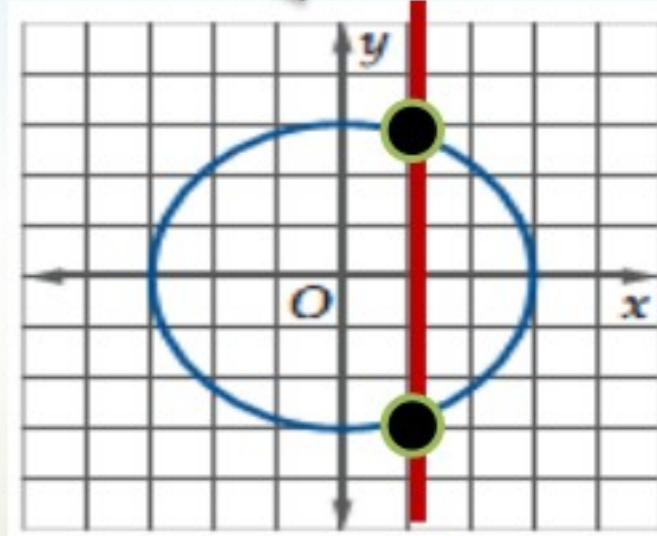
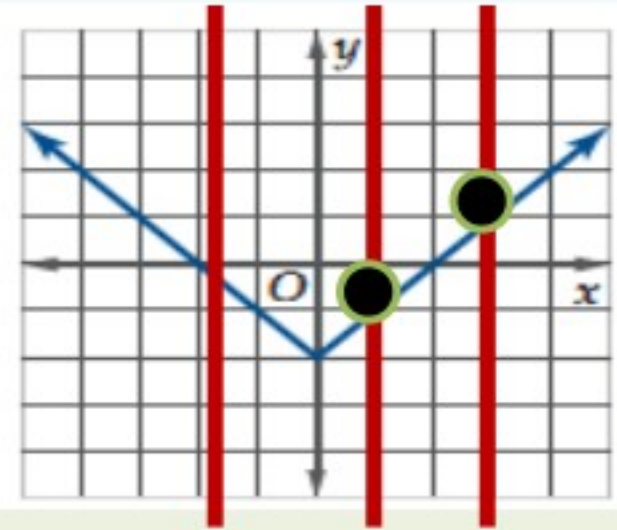
إعداد المعلمة
هند العديني

من المعادلة

اختبار الخط الراسي

من الجدول

بحل
المعادلة إذا
كانت كل
قيمة x
تقترن بقيمة
واحدة فقط
 y



x	y
-8	-5
-5	-4
0	-3
3	-2
6	-3

x	y
-2	-4
3	-1
3	4
5	6
7	9

دالة

علاقة
وليست دالة

دالة

علاقة
وليست دالة

لتحديد مجال الدالة

إعداد المعلمة
هند العديني

الدالة النسبية معرفة
بشرط المقام \neq صفر

{اصفار المقام} $= \mathcal{R}$ = المجال

جذور فردية

في المقام : معرفة لكل
 $x \in \mathcal{R} - \{اصفار المقام\}$

في البسط معرفة
لكل $x \in \mathcal{R}$

الدالة الجذرية
نحدد نوع الجذر

كثيرة الحدود معرفة
لكل $x \in \mathcal{R}$

= \mathcal{R} المجال

جذور زوجية

في المقام : معرفة
بشرط
 > 0 ما تحت الجذر

في البسط :
معرفة بشرط
 ≥ 0 ما تحت الجذر

إعداد المعلمة
هند العديني

المقاطع مع المحورين

مع المحور y

مع المحور $x =$ أصفار الدالة

جبريا

بيانيا

جبريا

بيانيا

نوجد
 $f(0)$

نقط التقاطع
مع المحور y

نحل المعادلة
 $f(x) = 0$

نقط التقاطع
مع المحور x

اختبار التماثل

إعداد المعلمة
هند العديني

حول نقطة الاصل

حول محور Y

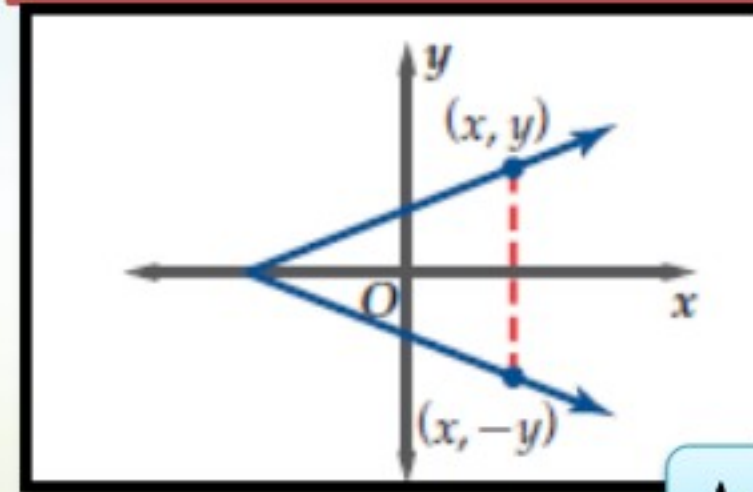
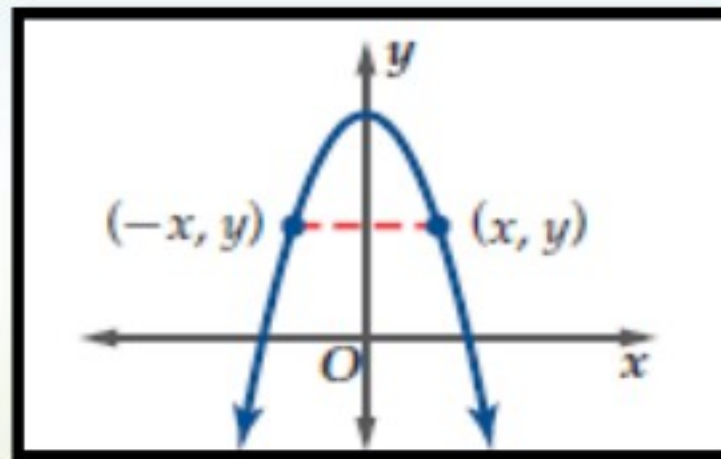
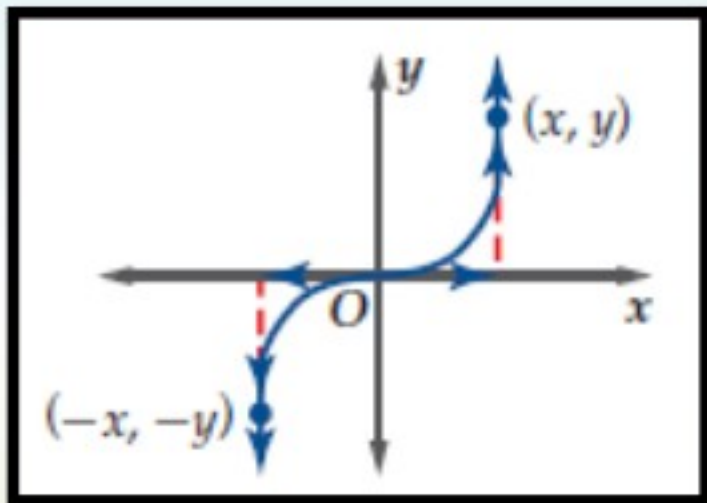
حول محور X

(١) بيانيا

$$(x, y) \rightarrow (-x, -y)$$

$$(x, y) \rightarrow (-x, y)$$

$$(x, y) \rightarrow (x, -y)$$



(٢) جبريا

إذا كان تعويض
(-x) مكان (x)
و (-y) مكان (y)
يعطي معادلة مكافئة

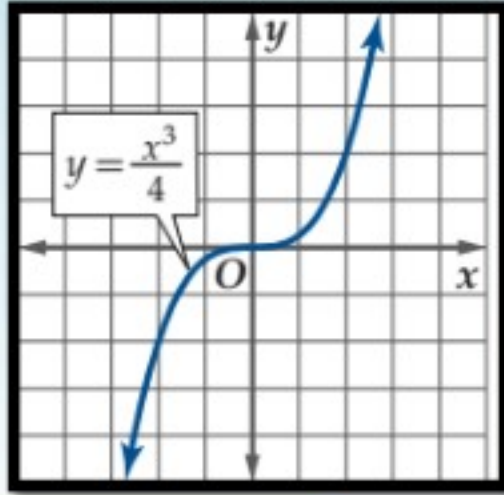
إذا كان تعويض
(-x) مكان (x)
يعطي معادلة مكافئة

إذا كان تعويض
(-y) مكان (y)
يعطي معادلة مكافئة

إعداد المعلمة
هند العديني

الدالة

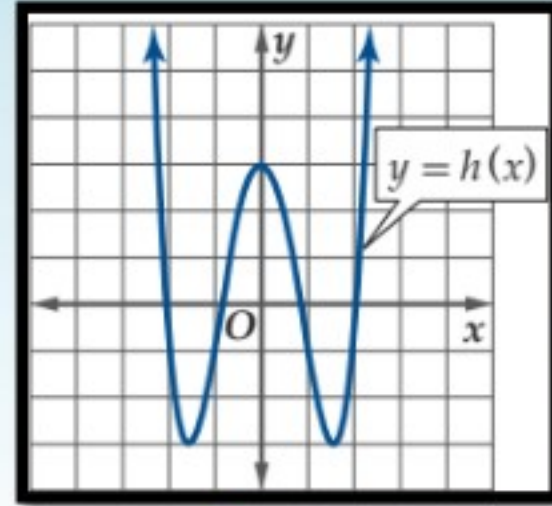
فردية



لكل x في مجال f ، فإن $f(-x) = -f(x)$.

المنحني متماثل حول نقطة الأصل

زوجية



لكل x في مجال f ، فإن $f(-x) = f(x)$.

المنحني متماثل حول محور y

أنواع عدم الاتصال

إعداد المعلمة
هند العديني

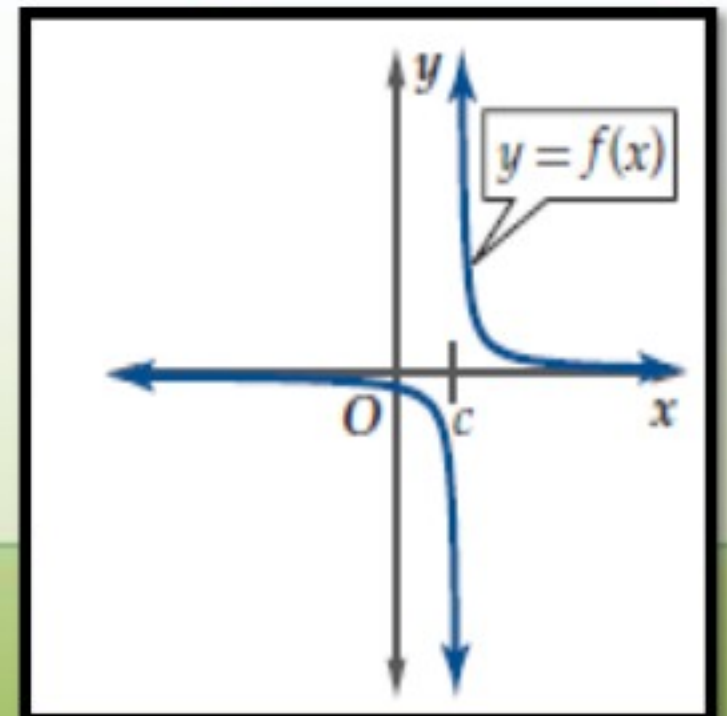
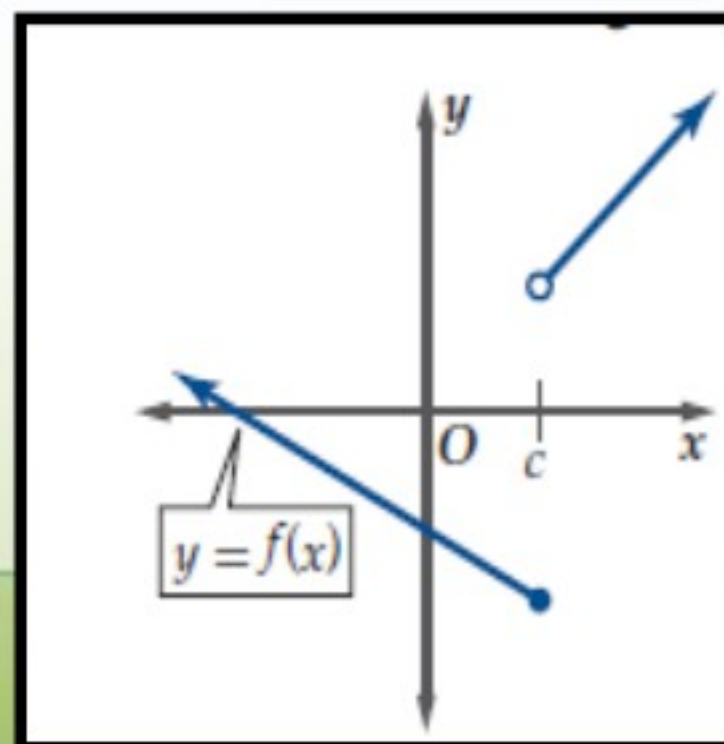
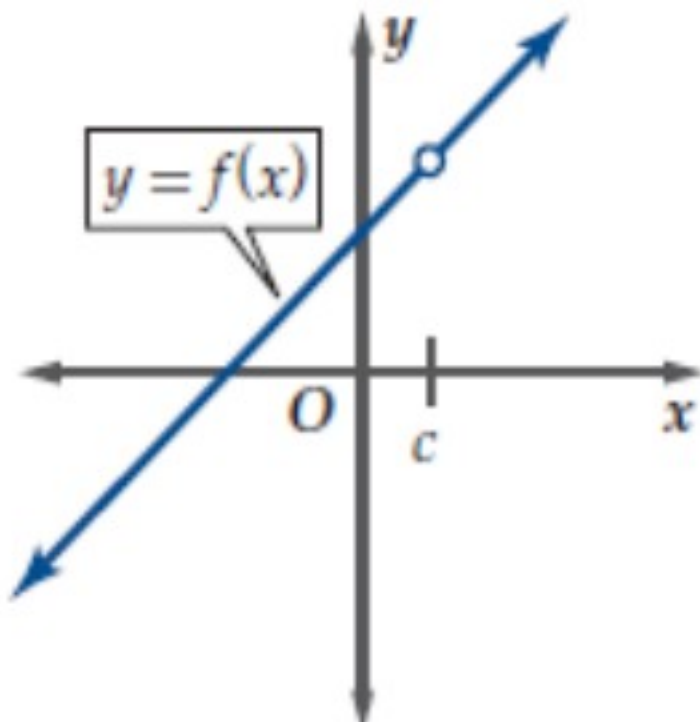
عدم اتصال قابل للإزالة

عدم اتصال غير قابل للإزالة

عدم اتصال نقطي

قفزي

لانهايي



الاتصال وأنواع عدم الاتصال

إعداد المعلمة
هند العديني

غير معرفة عند العدد c
أي $f(c)$ غير موجودة

معرفة عند العدد c
أي $f(c) = a$ موجودة

نحسب النهاية $\lim_{x \rightarrow c} f(x)$

نحسب النهاية $\lim_{x \rightarrow c} f(x)$

غير موجودة

موجودة

غير موجودة

موجودة

عدم اتصال
نقطي

$$\lim_{x \rightarrow c^+} f(x) \neq \lim_{x \rightarrow c^-} f(x)$$

$$\lim_{x \rightarrow c^+} f(x) \neq \lim_{x \rightarrow c^-} f(x)$$

$$\lim_{x \rightarrow c} f(x) \neq a$$

$$\lim_{x \rightarrow c} f(x) = a$$

$$\lim_{x \rightarrow c} f(x) = \pm\infty$$

عدم اتصال
قفزي

عدم اتصال
لانهايي

عدم اتصال
قفزي

عدم اتصال
نقطي

متصلة
عند c

خصائص الدالة

إعداد المعلمة
هند العديني

ثابتة

متناقضة

متزايدة

تكون الدالة f ثابتة على فترة ما إذا وفقط إذا لم تتغير قيم $f(x)$ لأي قيم x في الفترة.

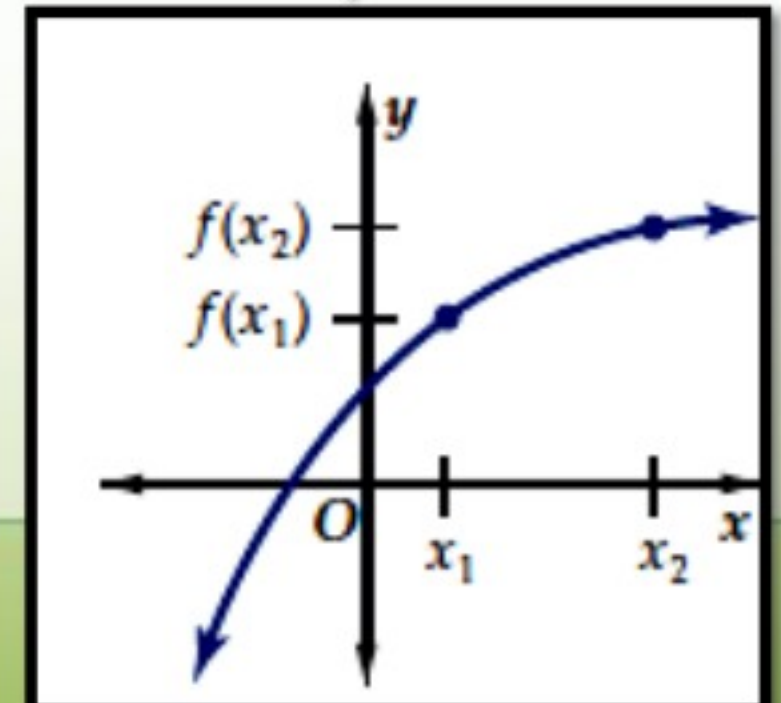
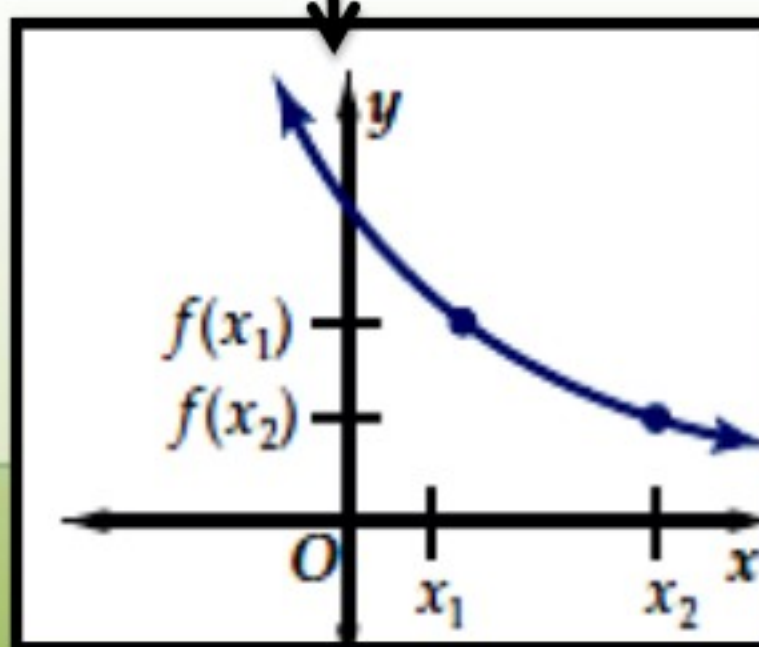
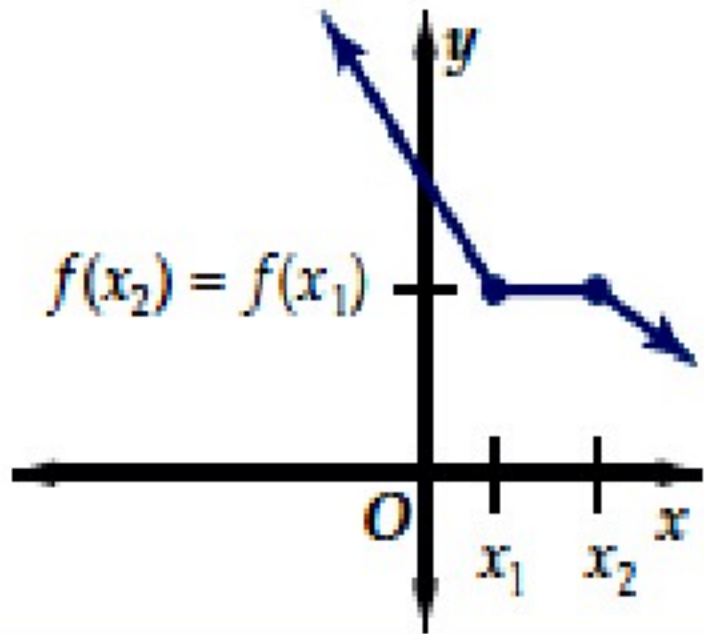
لكل x_1 و x_2 في الفترة، فإن $f(x_1) = f(x_2)$.
عندما تكون $x_1 < x_2$.

تكون الدالة f متناقضة على فترة ما إذا وفقط إذا تناقصت قيم $f(x)$ كلما زادت قيم x في الفترة.

لكل x_1 و x_2 في الفترة، فإن $f(x_1) > f(x_2)$.
عندما تكون $x_1 < x_2$.

تكون الدالة f متزايدة على فترة ما إذا وفقط إذا زادت قيم $f(x)$ كلما زادت قيم x في الفترة.

لكل x_1 و x_2 في الفترة، فإن $f(x_1) < f(x_2)$ عندما تكون $x_1 < x_2$.



إعداد المعلمة
هند العديني

الإزاحة (الانسحاب)

رأسي

$$g(x) = f(x) + a$$

$$a > 0$$

نتحرك
للأعلى

$$a < 0$$

نتحرك
للأسفل

أفقي

$$g(x) = f(x + a)$$

$$a > 0$$

نتحرك
لليسار

$$a < 0$$

نتحرك
لليمين

الانعكاس

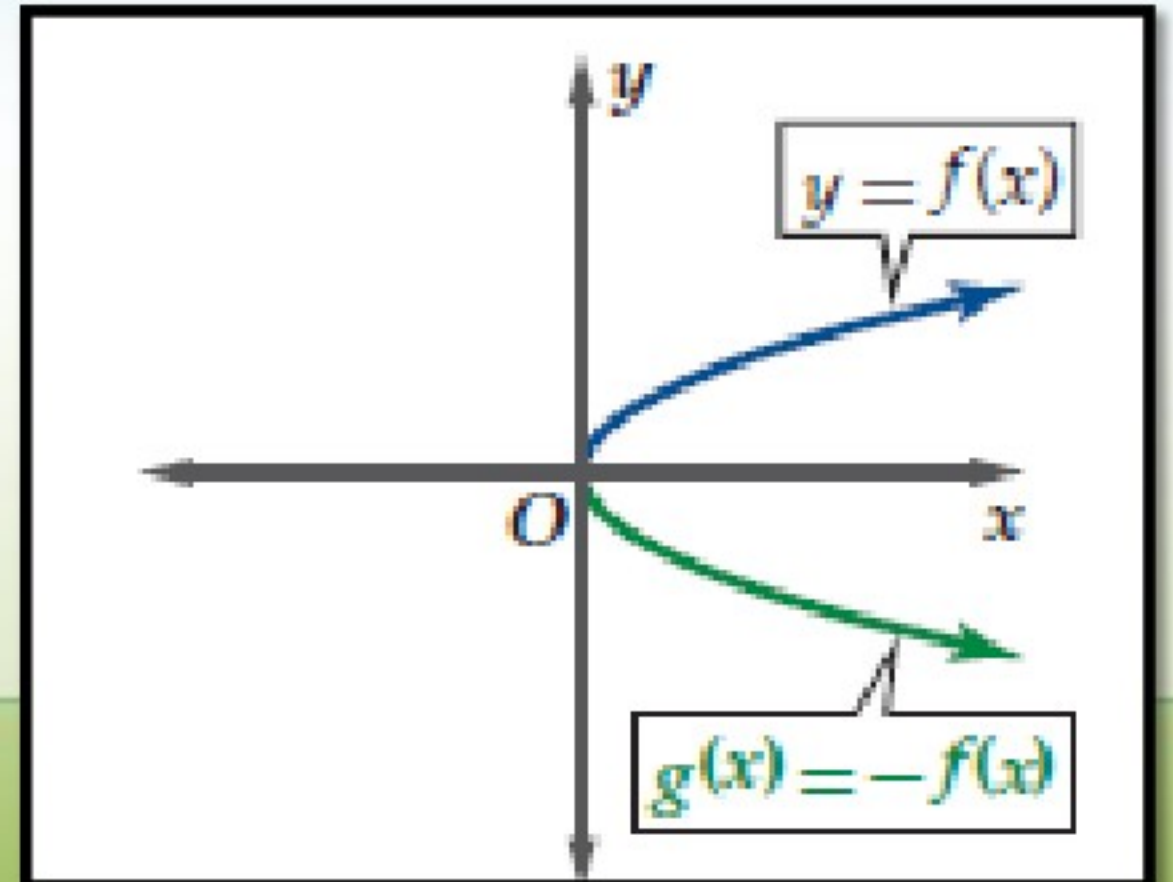
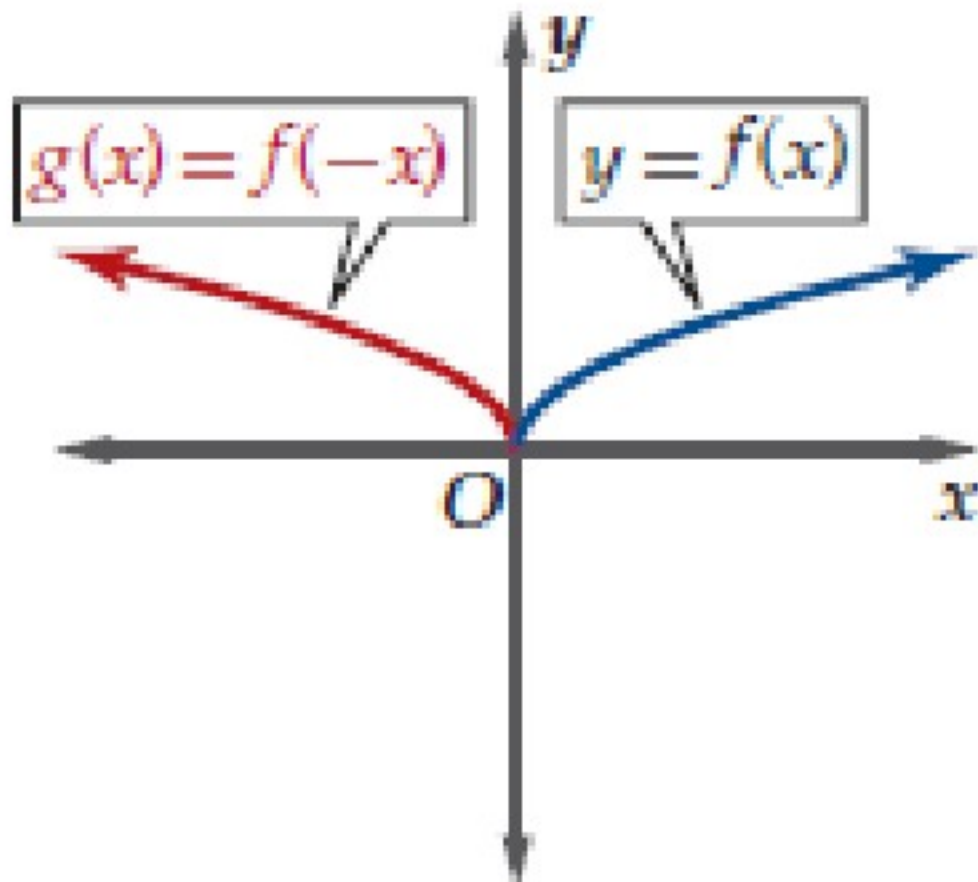
إعداد المعلمة
هند العديني

الانعكاس حول المحور y

الانعكاس حول المحور x

منحنى الدالة $g(x) = f(-x)$ هو انعكاس
لمنحنى الدالة $f(x)$ حول المحور y .

منحنى الدالة $g(x) = -f(x)$ هو انعكاس لمنحنى
الدالة $f(x)$ حول المحور x .



إعداد المعلمة
هند العديني

التمدد كل نقطة (x, y)

رأسي

$$g(x) = af(x)$$

نضرب الأحدثي y في (x, ay)

أفقي

$$g(x) = f(ax)$$

نقسم الأحدثي x في $(\frac{x}{a}, y)$

$$a > 1$$

توسع تبعد
عن محور x
المسافة
الرأسية تزيد

$$0 < a < 1$$

تضييق تقترب
عن محور x
المسافة
الرأسية تقل

$$a > 1$$

تضييق تقترب
عن محور y
المسافة
الأفقية تقل

$$0 < a < 1$$

توسع تبعد
عن محور y
المسافة
الأفقية تزداد

تحديد مدى

إعداد المعلمة
هند العديني

الدوال النسبية

الجزور الزوجية

الدالة التربيعية

كل من
البسط
والمقام
من
الدرجة
الأولى

المقام من
الدرجة
الأولى
والبسط من
الدرجة
الصفريّة

$$f(x) = a\sqrt{mx+b} + c$$

$$f(x) = ax^2 + c$$

$$f(x) = ax^2 + bx + c$$

$$c \neq 0$$

$$c = 0$$

$$a > 0$$

$$a < 0$$

$$a > 0$$

$$a < 0$$

$$\mathbb{R} - \{0\}$$

$$a > 0$$

$$a < 0$$

$$a > 0$$

$$a < 0$$

$$[c, \infty)$$

$$(-\infty, c]$$

$$\left[f\left(\frac{-b}{2a}\right), \infty \right)$$

$$\left(-\infty, f\left(\frac{-b}{2a}\right) \right]$$

$\mathbb{R} - \{$ الخط التقاربي
الأفقي $\}$

$$[c, \infty)$$

$$(-\infty, c]$$

$$[0, \infty)$$

$$(-\infty, 0]$$



الفصل الثاني
العلاقات و الدوال
الأسية و اللوغاريتمية

إعداد المعلمة : هند العديني

إعداد المعلمة
هند العديني

مجال ومدى الدالة الأسية واللوغاريتمية

الدالة اللوغاريتمية

$$f(x) = a \log(cx + h) + k$$

المدى = \mathcal{R}

المجال

$h \neq 0$

$h = 0$

$a < 0$

$a > 0$

$c < 0$

$c > 0$

$$\left(-\infty, \frac{-h}{c}\right)$$

$$\left(\frac{-h}{c}, \infty\right)$$

$$(-\infty, 0)$$

$$(0, \infty)$$

في الدالة اللوغاريتمية
يتغير المجال لذلك نعلم
على التحويلات الأفقية

إعداد المعلمة : هند العديني

الدالة الأسية

$$f(x) = ab^{(cx+h)} + k$$

المدى

المجال = \mathcal{R}

$k \neq 0$

$k = 0$

$a < 0$

$a > 0$

$a < 0$

$a > 0$

$$(-\infty, k)$$

$$(k, \infty)$$

$$(-\infty, 0)$$

$$(0, \infty)$$

في الدالة الأسية يتغير
المدى لذلك نعلم على
التحويلات الرأسية

المعادلات اللوغاريتمية

إعداد المعلمة
هند العديني

أكثر من عبارة لوغاريتمية

عبارة لوغاريتمية واحدة

مجموع لوغاريتمين أو
حاصل طرحهما

عبارتين لوغاريتميتين
متساويتين

$$\log_b x = a$$

باستخدام خواص
اللوغاريتمات

من خاصية التساوي

نحول للصورة الأسية
ثم نحل المعادلة الأسية

$$\log_b x = \log_b y \Leftrightarrow x = y$$

نحولها إلى عبارتين
لوغاريتميتين متساويتين

نحولها إلى عبارة
لوغاريتمية واحدة

ملاحظة هامة :

عند حل المعادلة اللوغاريتمية لا بد
من التحقق من الحل بالتعويض أو
بتحديد المجال والتأكد من وجود
الحل في مجال الدالة

من خاصية التساوي

$$\log_b x = \log_b y \Leftrightarrow x = y$$

نحول للصورة الأسية

ثم نحل المعادلة الأسية

تطبيقات الدالة الأسية

الربح المركب

و هو الربح الذي يحسب المبلغ المستثمر أو رأس المال مضافا إليه أي ارباح سابقة.

$$A = P \left(1 + \frac{r}{n} \right)^{n t}$$

حيث A المبلغ الكلي بعد t سنة
 P المبلغ الأصلي (رأس المال)
 n عدد مرات إضافة الربح إلى رأس المال في السنة

دالة الأضمحلال الأسي

و تستخدم لحساب النقص في قيمة ما بنسبة مئوية ثابتة في فترات زمنية متساوية

$$A(t) = a (1 - r)^t$$

حيث a القيمة الابتدائية
 r النسبة المئوية للاضمحلال
 t الفترة الزمنية

إعداد المعلمة
هند العديني

دالة النمو الأسي

و تستخدم لحساب الزيادة في قيمة ما بنسبة مئوية ثابتة في فترات زمنية متساوية

$$A(t) = a (1 + r)^t$$

حيث a القيمة الابتدائية
 r النسبة المئوية للنمو
 t الفترة الزمنية

خصائص اللوغاريتمات الأساسية

$$\log_b 1 = 0$$

$$\log_b b = 1$$

$$\log_b b^x = x$$

$$b^{\log_b x} = x, x > 0$$

إعداد المعلمة
هند العديني

خصائص اللوغاريتمات

إذا كانت x, y, b أعداداً حقيقية موجبة، حيث $b \neq 1$

$$\log_b x = \log_b y \text{ إذا وفقط إذا كان } x = y.$$

$$\log_b xy = \log_b x + \log_b y.$$

$$\log_b \frac{x}{y} = \log_b x - \log_b y$$

$$\log_b x^m = m \log_b x$$



الفصل الثالث
المتطابقات
و المعادلات المثلثية

إعداد المعلمة : هند العديني

المتطابقات المثلثية

- النسبية
- المقلوب
- فيثاغورس
- الزوايا المتتامه
- الدوال الزوجية و الفردية
- المجموع و الفرق
- المضاعفات
- الانصاف

$$\tan \theta = \frac{\sin \theta}{\cos \theta} \quad \cot \theta = \frac{\cos \theta}{\sin \theta}$$

$$\sin \theta = \frac{1}{\csc \theta}$$

$$\csc \theta = \frac{1}{\sin \theta}$$

$$\cos \theta = \frac{1}{\sec \theta}$$

$$\sec \theta = \frac{1}{\cos \theta}$$

$$\tan \theta = \frac{1}{\cot \theta}$$

$$\cot \theta = \frac{1}{\tan \theta}$$

إعداد المعلمة
هند العديني

$$\sin^2 \theta + \cos^2 \theta = 1$$

$$\tan^2 \theta + 1 = \sec^2 \theta$$

$$\cot^2 \theta + 1 = \csc^2 \theta$$

$$\sin \theta = \cos \left(\frac{\pi}{2} - \theta \right)$$

$$\cos \theta = \sin \left(\frac{\pi}{2} - \theta \right)$$

$$\tan \theta = \cot \left(\frac{\pi}{2} - \theta \right)$$

$$\sin(-\theta) = -\sin \theta$$

$$\cos(-\theta) = \cos \theta$$

$$\tan(-\theta) = -\tan \theta$$

$$\cos(A \pm B) = \cos A \cos B \mp \sin A \sin B$$

$$\sin(A \pm B) = \sin A \cos B \pm \cos A \sin B$$

$$\tan(A \pm B) = \frac{\tan A \pm \tan B}{1 \mp \tan A \tan B}$$

$$\sin 2\theta = 2 \sin \theta \cos \theta$$

$$\cos 2\theta = \cos^2 \theta - \sin^2 \theta$$

$$\cos 2\theta = 2 \cos^2 \theta - 1$$

$$\cos 2\theta = 1 - 2 \sin^2 \theta$$

$$\tan 2\theta = \frac{2 \tan \theta}{1 - \tan^2 \theta}$$

$$\sin \frac{\theta}{2} = \pm \sqrt{\frac{1 - \cos \theta}{2}}$$

$$\cos \frac{\theta}{2} = \pm \sqrt{\frac{1 + \cos \theta}{2}}$$

$$\tan \frac{\theta}{2} = \pm \sqrt{\frac{1 - \cos \theta}{1 + \cos \theta}}$$

تحل المعادلات المثلثية كما تحل المعادلات العادية

لحل المعادلات المثلثية نضعها على احد الصور التالية :
 $\cos \theta = a$, $\sin \theta = a$, $\tan \theta = a$

$a = 0, 1, -1$

زاوية ربعية
 $0^\circ, 90^\circ, 180^\circ, 360^\circ$

إعداد المعلمة
هند العديني

خلاف ذلك

نحدد الزاوية عن طريق تحديد إشارة الدالة المثلثية
حسب الربع الموجودة فيه نحدد الزاوية θ كالآتي :

$\theta =$ إذا كانت الزاوية في الربع الأول

$\theta - 180^\circ =$ إذا كانت الزاوية في الربع الثاني

$\theta + 180^\circ =$ إذا كانت الزاوية في الربع الثالث

$\theta - 360^\circ =$ إذا كانت الزاوية في الربع الرابع



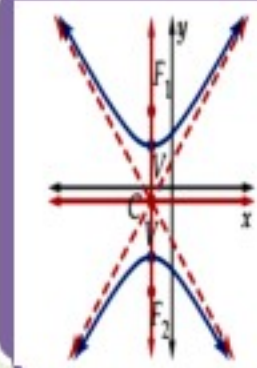
إعداد المعلمة : هند العديني

القطوع المخروطية

القطع الزائد

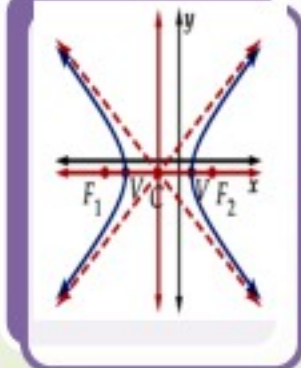
المحور القاطع رأسي

$$\frac{(y-k)^2}{a^2} - \frac{(x-h)^2}{b^2} = 1$$



المحور القاطع أفقي

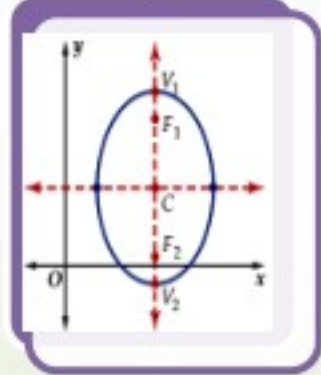
$$\frac{(x-h)^2}{a^2} - \frac{(y-k)^2}{b^2} = 1$$



القطع الناقص

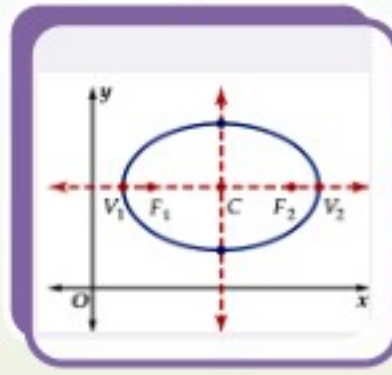
المحور الأكبر رأسي

$$\frac{(x-h)^2}{b^2} + \frac{(y-k)^2}{a^2} = 1$$



المحور الأكبر أفقي

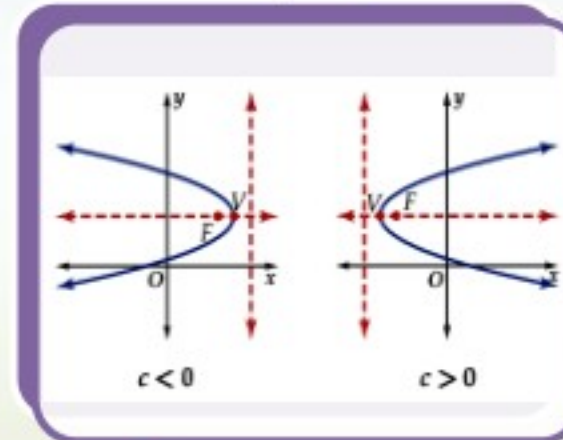
$$\frac{(x-h)^2}{a^2} + \frac{(y-k)^2}{b^2} = 1$$



القطع المكافئ

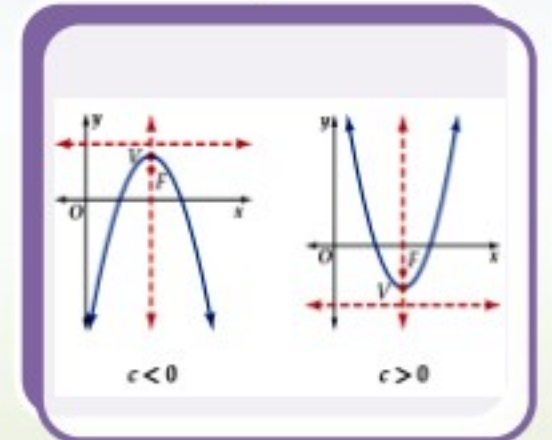
المنحني مفتوح أفقياً

$$(y-k)^2 = 4c(x-h)$$



المنحني مفتوح رأسي

$$(x-h)^2 = 4c(y-k)$$



إعداد المعلمة
هند العديني

تحديد أنواع القطوع المخروطية يمكنك تحديد نوع القطع المخروطي دون أن تكتب المعادلة:
 $Ax^2 + Bxy + Cy^2 + Dx + Ey + F = 0$ على الصورة القياسية، وذلك باستعمال المميز $B^2 - 4AC$.

$$B^2 - 4AC = 0$$

قطع مكافئ

$$B^2 - 4AC < 0, A \neq C \text{ أو } B \neq 0$$

قطع ناقص

$$B^2 - 4AC < 0, B = 0, A = C$$

دائرة

$$B^2 - 4AC > 0$$

قطع زائد

تصنيف القطوع
المخروطية

إعداد المعلمة
هند العديني